

はこの形

(教科書 65 ~ 67 ページ)

2年

名前
組

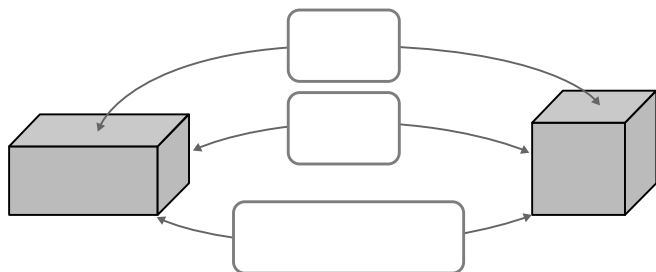


にあてはまることばや^{かず}数^かを書きましょう。

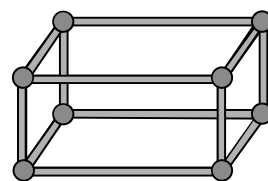
① はこの形^{かたち}のたいらなところを、 といいます。

② ^{めん}面と^{めん}面の^{あいだ}間の^{ちよくせん}直線を、 といいます。

③ 3つの^{へん}辺があつまったところを、 といいます。



ひごとねん^{とだま}土玉をつかって、
はこの形^{かたち}をつく^{つく}ことを
おも^{おも}だ^だ思い出してみよう。

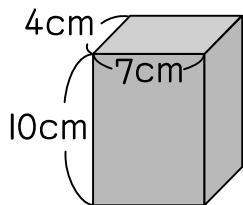


④ はこの形^{かたち}の^{めん}面の^{かず}数は, ^{へん}辺の^{かず}数は, ^{てん}ちょう点^{かず}の^{かず}数はです。



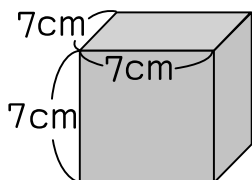
した^{した}下はこの形^{かたち}を、くわしくしらべましょう。

①



- ・ たて 4cm, よこ 7cm の^{ちようほうけい}長^{めん}方形^{かず}の^{めん}面^{かず}の数
- ・ たて 10cm, よこ 7cm の^{ちようほうけい}長^{めん}方形^{かず}の^{めん}面^{かず}の数
- ・ たて 10cm, よこ 4cm の^{ちようほうけい}長^{めん}方形^{かず}の^{めん}面^{かず}の数
- ・ ^{なが}ながさが 7cm の^{へん}辺^{かず}の数

②



- ・ 1 ^{へん}辺^{かず}が 7cm の^{せいほうけい}正^{めん}方形^{かず}の^{めん}面^{かず}の数
- ・ ^{てん}ちょう点^{かず}の数